

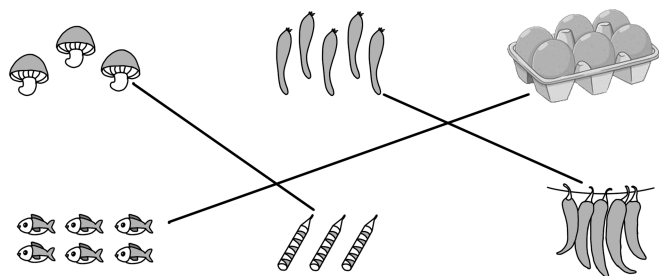


参考答案

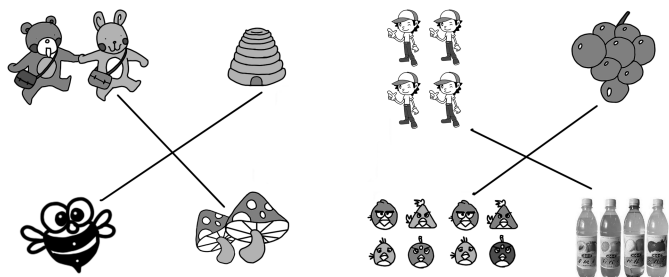
复习训练营(一)

基础训练

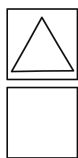
1. (1)



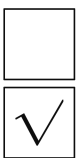
(2)



2. (1)



(2)

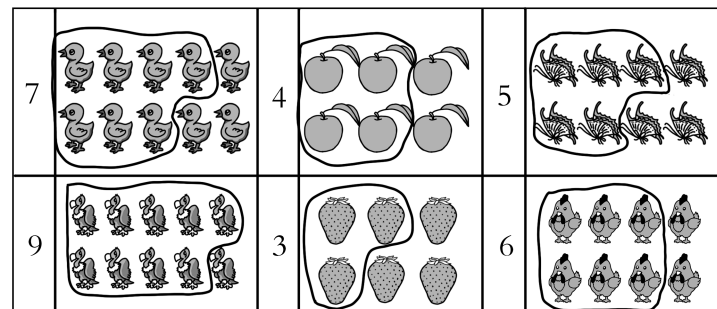


(3)



3. 5 3 4 9


4.



5. 涂色略。

能力升级

1.



2. (1)√ (2)×

3. (1)略。











(2)△△△△

(3)□□□□□□



4. 有 4 只蝴蝶 有 6 位小朋友 有 3 名女生

5.

	○○○○○○○○○○		○○○○○○○○○○
	○○○○○○○		○○○
	○○		○○○○○○○○○○
	○		○○○○
	○○○○○		○○○○○○○○○○○○○○

复习训练营(二)

基础训练

1. 后 前 前 后

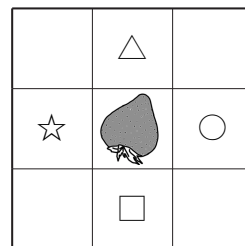
2. 左 右 右 左

3. 上 下

4. (1) 上 下 (2) 下 上 (3) 下 上

5. (1) 前 后 (2) 前 后 (3) 前 后

6.



7. (1) 右 左 (2) 左 右 (3) 右 左

能力升级

1. (1) 小熊 小猴

(2) 小猴 小马

(3) 小猴

(4) 把大象圈起来。

2. (1) 上 左

(2) 右 左 下

3.       

4. (1) 右 (2) 左 (3) 右 (4) 左

5. (答案不唯一)(1) 老鼠先向上走,再向左走。



(2)老鼠先向右走,再向上走。

6. 小朋友的前面是图书馆,后面是体育馆,左面是教学楼,右面是大门。

复习训练营(三)

基础训练

1. 略。

2. 5 4 2 0 0 1 3 5

3. (1)5 (2)4 2 (3)略。

(4)在乌龟下面画☆。

4. $4 < 5$ $4 > 3$

5. 2 4

6. 涂色略。 3 2 4 1 1 4

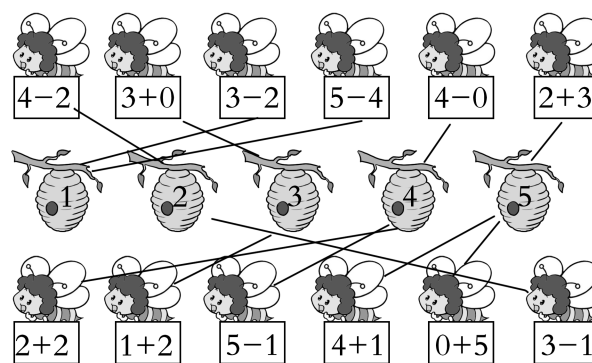
7. $<$ $>$ $=$ $>$ $=$ $<$ $<$ $>$ $=$

8. $-$ $+$ $-$ $+$ $+$ $-$ $+$ $-$ $+$

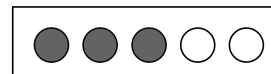
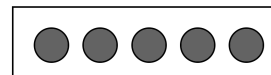
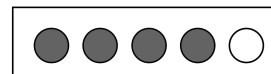
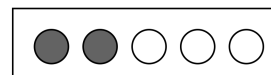
9. 2 4 3 0 3 1 1 4 4

10. 2 0 2 0 5 2 5 3 0 5

11.



12.



能力升级

1. 略。

2. (1) $4 - 1 = 3$



(2) $2+3=5$

(3) $0+3=3$

3. (1) $1+2=3$ (2) $2+3=5$

4. $4+1=5$

5. 1 $5-1=4$

6. 画图略。 $2+3=5$ (个)

7. 不够 $5-4=1$ (个)

8. 略。

复习训练营(四)

基础训练

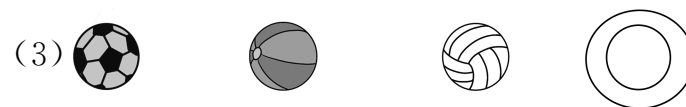
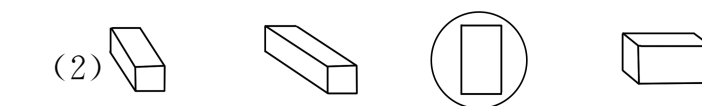
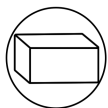
1. 正方体 圆柱 长方体 球

2. 5 3 2 5

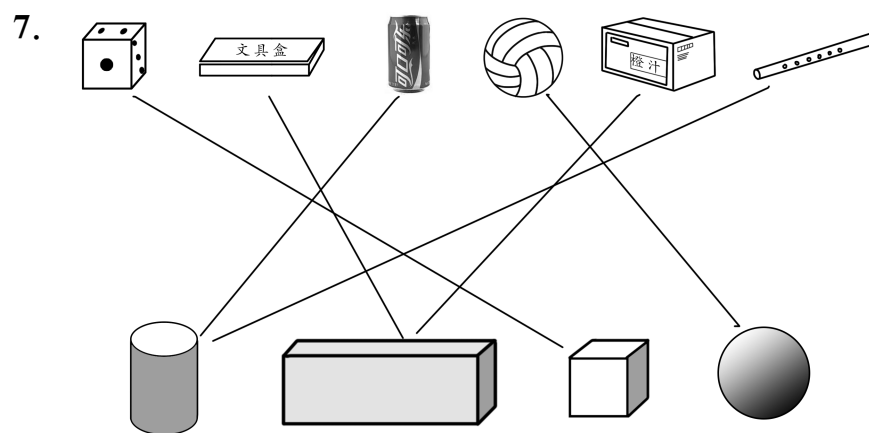
3. ①⑥⑧ ④⑤ ③ ②

4. (1) 8 4 (2) 2 4 (3) 3 2

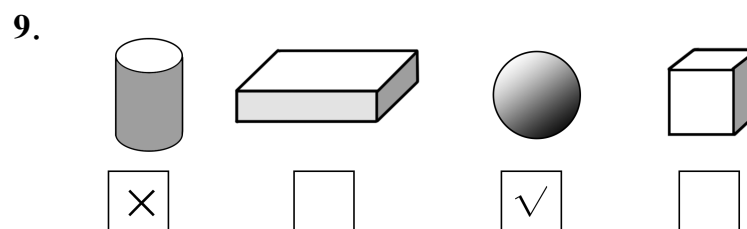
5. (1)



6. 2 3 5 3 5 4

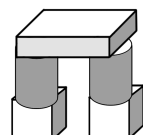
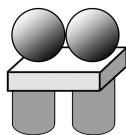
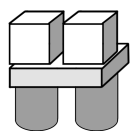


8. (1) × (2) × (3) √ (4) × (5) √



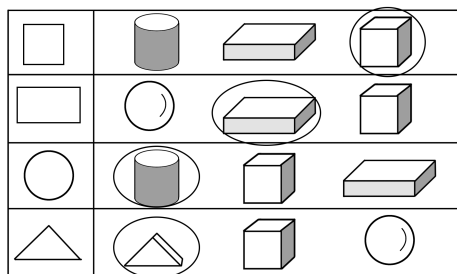


10.



能力升级

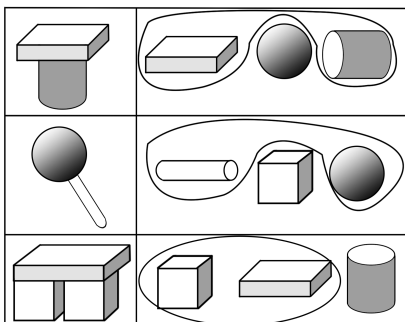
1.



2. (1) 长方体 (2) 圆柱

3. 6

4.



5. 球 正方体 圆柱

6. (1) 8 2 2 1




7. \checkmark \times \checkmark \times

复习训练营(五)

基础训练

1. 9 8 画图略。

2.



3. 左边的小猫先捉到老鼠。

4. 第2组 第1组

5. 8 10 4 9 1 10 7 2 10 1 4 10



6. $2+7=9$ $7+2=9$ $9-7=2$ $9-2=7$ (答案不唯一)

7. 2 4 7 9 8 7 2 3 4

8. $>$ $<$ $<$ $=$ $>$ $>$

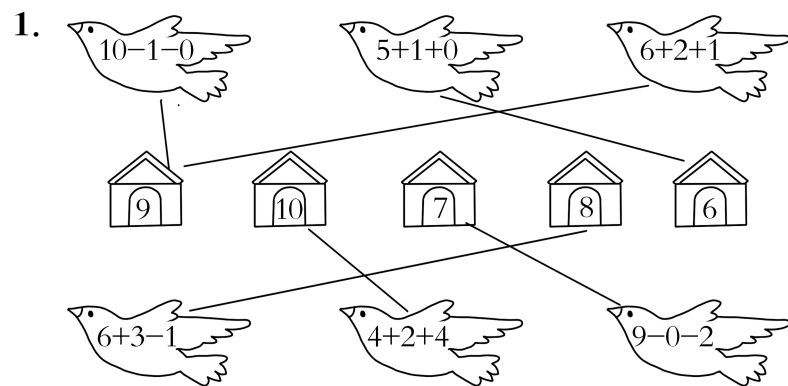
9. 4 6 3 9 5 4

10. 1 3 5 7 9 1 3 5 7 9

11. 画图略。 2 5 $6+4=10$ $4+6=10$

12. 略。

能力升级

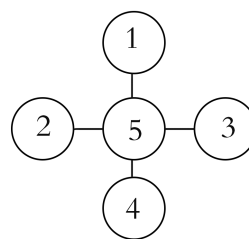


2. (1) $6+2=8$ $2+6=8$ $8-2=6$ $8-6=2$

(2) $4+5=9$

(3) $9-2-4=3$

3.



4. (1) $9-2+3=10$

(2) $10-3=7$ (根)

5. (1) $3+2=5$ (个)

(2) 一共有几只蝴蝶?

$3+2=5$ (只)(答案不唯一)

复习训练营(六)

基础训练

1. 略。

2. 15 十五 19 十九 20 二十

3. 16 18

4. 13 20

5. (1) 1 4 (2) 15






(3)个 7 一 十 1 十

(4)个 几 一 十 几 十

6. 8 10 11 12 12 11 10 9

7. < > < > = < > < >

8. 略。



10. 画图略。

11. 4 4 12 16 3 2

12. 16 18 16 11

13. 13 13 15 14 15 16 7 18

能力升级

1. $13 < 20$ $16 > 13$

2. (1) $12 + 5 = 17$

(2) $16 - 4 = 12$

(3) $11 + 3 = 14$

(4) $8 + 2 + 3 = 13$

3. $10 + 7 = 17$ (块)

4. 10 6 16 $10 + 6 = 16$

5. 5 个。

6. $11 + 3 = 14$ (根)

7. $13 - 3 - 1 = 9$ (个)

复习训练营(七)

基础训练

1. (1) 12 1 12

(2) 时 分



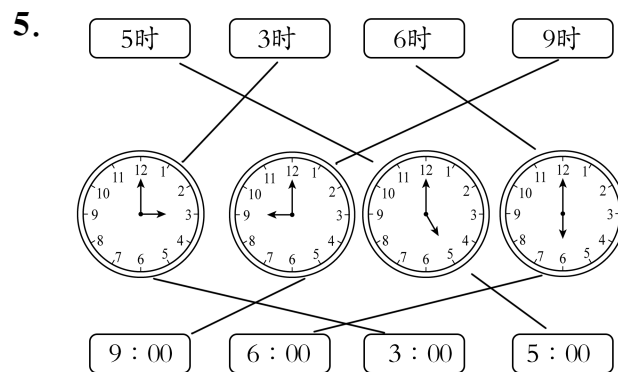
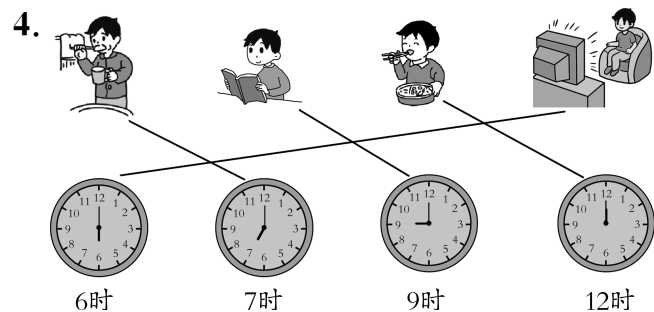
(3) 12

(4) 12 5

(5) 12

2. 1 1:00 4 4:00 6 6:00 9 9:00

3. × √ √ ×



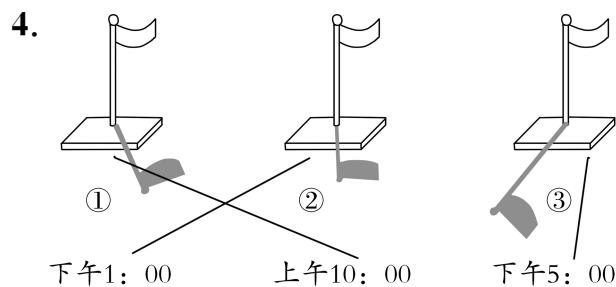
6. 画图略。

能力升级

1. 6时 4时 10时 7时

2. 略。

3. √ × 快5时了 × 1时 × 快6时了



5. 略。

6. 第2位同学先到家。

复习训练营(八)

基础训练

1. 画图略。 11 3 1 10 14 2 4 10

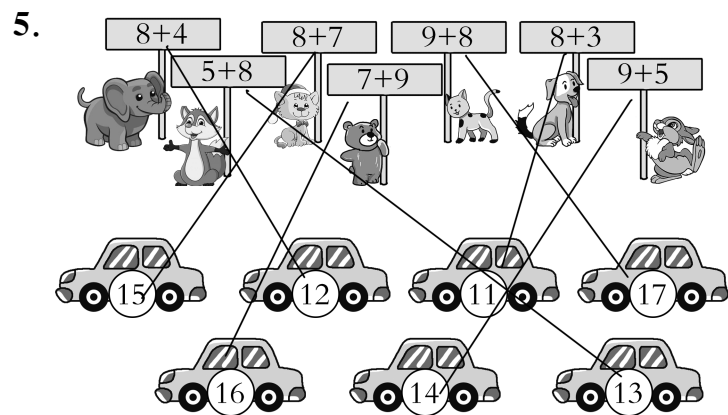
2. 7 16 9

3. + - + + - +





4. = > < < > = > <



6. $9+8$ $7+7$ $7+6$ $4+8$ $3+8$ $4+6$

7. 14 12 13 14 12 10 15 15 18 13 13
11

8. 15 13 11

9. 大于 15 的有 $9+9$ $7+9$

小于 15 的有 $4+8$ $3+8$ $9+3$ $6+8$

10. 6 8 5 8 8 9 7 8

能力升级

1. (1) $8+4=12$

(2) $7+5=12$

(3) $6+9=15$

(4) $6+3+4=13$

2. $4+1+9=14$ (人)

3. (1) $5+6=11$ (人) (2)略。

4. 每一条线上的数:1、6 2、5 3、4

复习训练营(九)

基础训练

1. (1)个 十

(2)13

(3)16 18

(4)14 16

(5)16 18

(6)1 4 6

(7)6



(8)16 十六

(9)4

(10)6 14 17

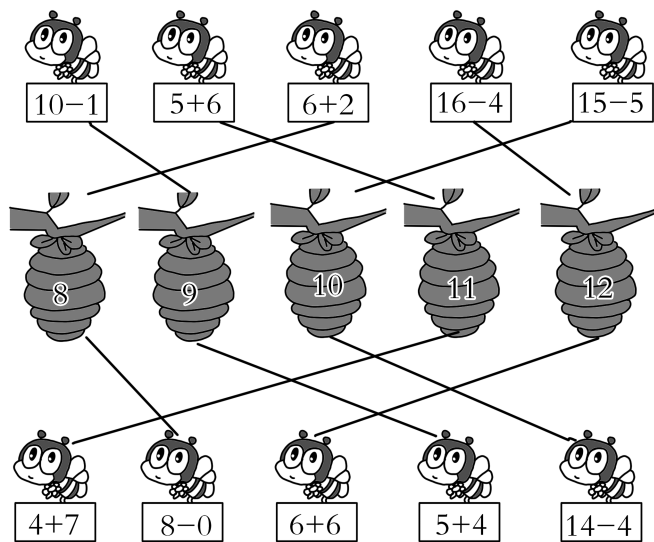
2. (1)8 (2)6 (3)6 5

3. 4 3 3 2

4. 略。

5. 上 左 右 下 老虎

6.



7. 9 14 12 10 4 6 15 13

8. 12 15 12

10

9. 18 15 1 15 5 13 6 12

能力升级

1. (1) $5+4=9$ $4+5=9$ $9-4=5$ $9-5=4$

(2) $7+3=10$ $10-7=3$ $10-3=7$

(3) $8+3=11$

(4) $17-7=10$

(5) $10-4-3=3$

(6) $8-2+4=10$

2. $10-2-1=7$ (人)

3. $8+6=14$ (支)

4. $9-2+3=10$ (人)

预习训练营(一)

初试身手

1. (1)略。 (2)略。

2. 略。





3. (1) 1、4、8 3

(2) 2、5、9 3

(3) 6、11 2

(4) 3 1

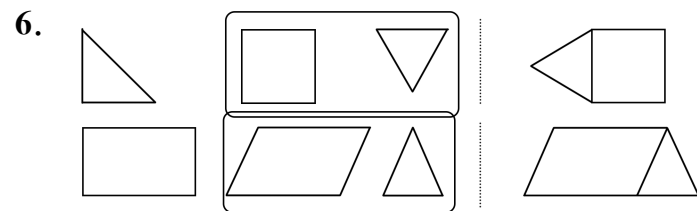
4.

5. (1) 9 2 5 5

(2) 3 5

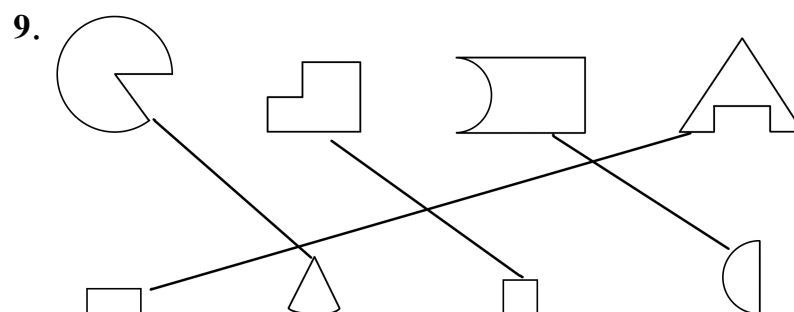
(3) 6

(4) 9



7. 略。

8. 略。



10. 10

11. 选择⑥⑦

12. 略。

预习训练营(二)

初试身手


1. 画图略。 6 6

2. 竖着写: 14 7 8 3 7 5 13 6 2 5 9 9

3. 略。



4.



5. (1) $\triangle\triangle\triangle\triangle\triangle$ (2) $\triangle\triangle\triangle\triangle\triangle\triangle$

6. (1) 11 5

(2) $13-8=5$

(3) $7+6=13$ $13-7=6$

(4) $12-6=6$

7. 4 8 1

8. 略。

9. (1) ① $15-8=7$ (只)

② $6+7=13$ (个)

(2) $11-8=3$ (个)

(3) $11-5=6$ (人)

(4) ① $14-5=9$ (张)

② 兵兵比佳佳少几张贴画?

$20-14=6$ (张) (答案不唯一)

